

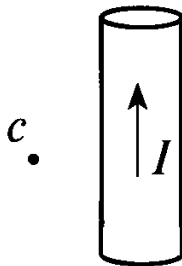
ВАРИАНТ 2

ЧАСТЬ А Выберите один верный ответ

1. Движущийся электрический заряд создает

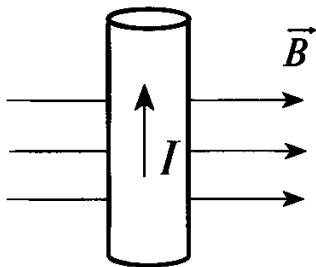
- 1) только электрическое поле
- 2) только магнитное поле
- 3) как электрическое, так и магнитное поле
- 4) только гравитационное поле

2. На рисунке изображен цилиндрический проводник, по которому идет электрический ток. Направление тока указано стрелкой. Как направлен вектор магнитной индукции в точке С?



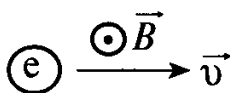
- 1) в плоскости чертежа вверх
- 2) в плоскости чертежа вниз
- 3) от нас перпендикулярно плоскости чертежа
- 4) к нам перпендикулярно плоскости чертежа

3. На проводник с током, внесенный в магнитное поле, действует сила, направленная



- 1) вверх
- 2) влево
- 3) к нам перпендикулярно плоскости чертежа
- 4) от нас перпендикулярно плоскости чертежа

4. Скорость электрона направлена перпендикулярно магнитной индукции. Сила Лоренца направлена



- 1) вправо \rightarrow
- 2) влево \leftarrow
- 3) вверх \uparrow
- 4) вниз \downarrow

5. Легкое металлическое кольцо подвешено на нити. При вдвигании в кольцо постоянного магнита оно отталкивается от него. Это объясняется

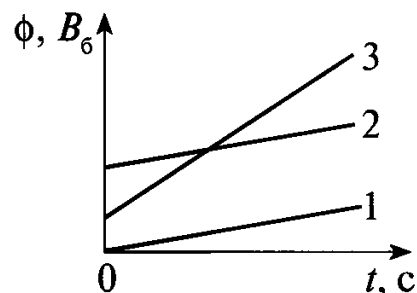
- 1) намагничиванием кольца
- 2) электризацией кольца
- 3) возникновением в кольце индукционного тока
- 4) возникновением в магните индукционного тока

6. В проволочное алюминиевое кольцо, висящее на нити, вносят полосовой магнит: сначала южным полюсом, затем северным. Кольцо при этом:

- 1) в обоих случаях притянется к магниту
- 2) в обоих случаях оттолкнется от магнита
- 3) в первом случае притянется, во втором - оттолкнется
- 4) в первом случае оттолкнется, во втором - притянется

7. Магнитный поток, пронизывающий катушку, изменяется со временем так, как показано на рисунке. В каком случае индукционный ток в рамке максимален?

- 1) в первом
- 2) во втором
- 3) в третьем
- 4) во всех случаях ток одинаковый



ЧАСТЬ В

8. Установите соответствия технических устройств из левого столбца таблицы с физическими явлениями, используемыми в них, в правом столбце.

Устройства	Явления
А. громкоговоритель	1) действие магнитного поля на постоянный магнит
Б. электронно-лучевая трубка	2) действие магнитного поля на проводник с током
В. амперметр	3) действие магнитного поля на движущийся электрический заряд
Г. компас	

Решите задачи.

9. В однородном магнитном поле перпендикулярно направлению вектора индукции, модуль которого $0,1$ Тл, движется проводник длиной 2 м со скоростью 5 м/с. Определить ЭДС индукции, которая возникает в проводнике.

10. Электрон движется со скоростью $2 \cdot 10^7$ м/с в плоскости, перпендикулярной магнитному полю, с индукцией $0,1$ Тл. Определите радиус траектории движения электрона.

ЧАСТЬ С

11. *Решите задачу.*

Плоский проволочный виток площадью 1000 см², имеющий сопротивление 2 Ом, расположен в однородном магнитном поле с индукцией $0,1$ Тл таким образом, что его плоскость перпендикулярна линиям магнитной индукции. На какой угол был повернут виток, если при этом по нему прошел заряд $7,5$ мКл?